

1. Aşağıdakı əmr hansı iş üçün nəzərdə tutulub?



Shapes

- A) Sənədə kvadrat fiqur əlavə etmək üçün
 B) Sənədə üçbucaq fiqur əlavə etmək üçün
 C) Sənədə həndəsi fiqurlar əlavə etmək üçün
 D) Sənədə düzbucaqlı fiqur əlavə etmək üçün
 E) Sənədə şəkil əlavə etmək üçün

2. Sənədə proqramın yaddaşındakı şəkili əlavə etmək üçün hansı əmr seçilməlidir?

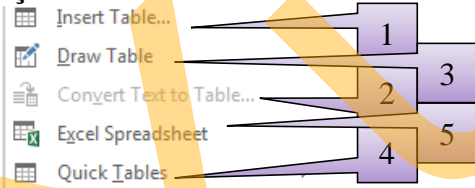


- A) 5
 B) 2
 C) 3
 D) 1
 E) 4

3. Sənəddə olan hər hansı bir sözü (cümləni, mətni) başqa bir söz ilə (cümlə ilə, mətn ilə) əvəzləmək üçün hansı əmrdən istifadə olunur?

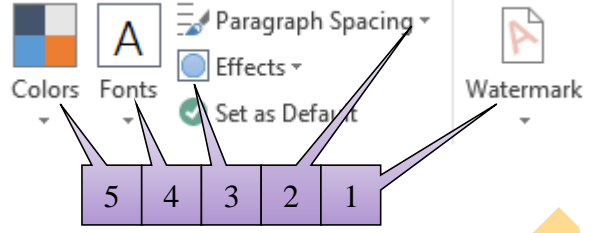
- A) Find
 B) Select
 C) Replace
 D) Styles
 E) Belə bir əmr yoxdur

4. Sənədə hazır cədvəllər əlavə etmək üçün hazır əmr seçilməlidir?



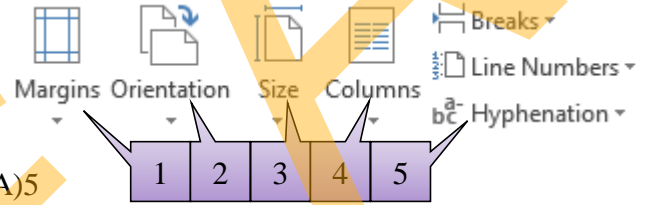
- A) 5
 B) 4 +
 C) 3
 D) 2
 E) 1

5. Sənəddəki bütün sətirlər arasındakı məsafəni "0" etmək üçün hansı əmr seçilməlidir?



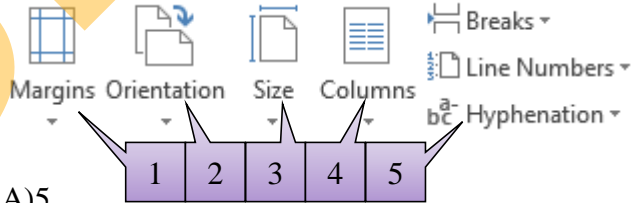
- A) 5
 B) 4
 C) 3
 D) 2
 E) 1

6. Səhifənin kənar boşluqlarını nizamlamaq üçün hansı əmr seçilməlidir?



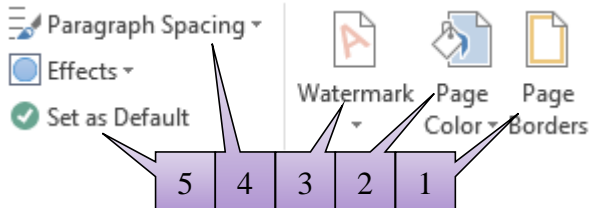
- A) 5
 B) 4
 C) 3
 D) 2
 E) 1

7. Hansı əmr vasitəsi ilə səhifənin ölçüsünü A3 edərək bilərək?



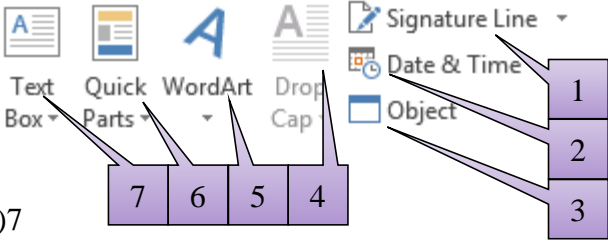
- A) 5
 B) 4
 C) 3
 D) 2
 E) 1

8. Səhifənin yalnız sağ və sol kənarına kənar xətti əlavə etmək üçün hansı əmrdən istifadə olunur?



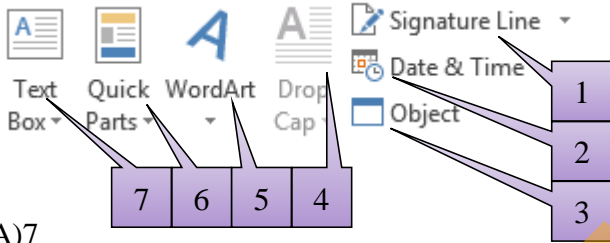
- A) 5
 B) 4
 C) 3
 D) 2
 E) 1

9.Sənədə dekorativ yazı nümunələri əlavə etmək üçün hansı əmr seçilməlidir?



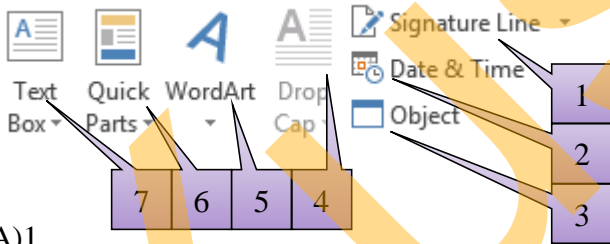
- A)7
B)6
C)5
D)2
E)1

10.Sənədə mətn qutusu əlavə etmək üçün hansı əmr seçilməlidir?



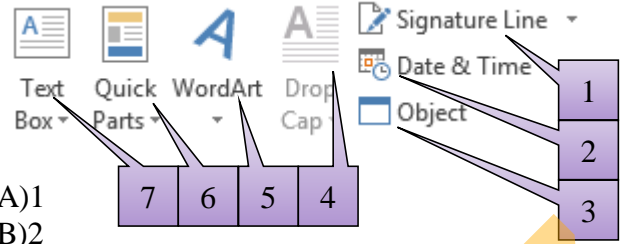
- A)7
B)6
C)5
D)2
E)1

11.Sənədə cari tarixi əlavə etmək üçün hansı əmr seçilməlidir?



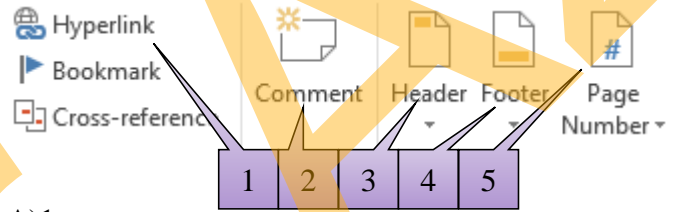
- A)1
B)2
C)3
D)4
E)5

12.Bir neçə sənədi birləşdirmək üçün hansı əmr seçilməlidir?



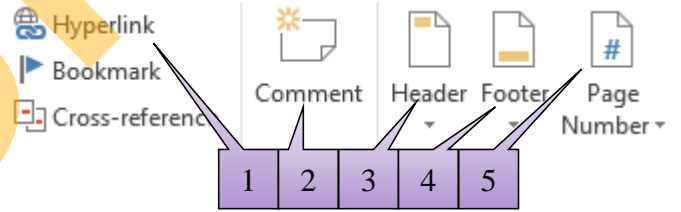
- A)1
B)2
C)3
D)4
E)5

13.Sənədə yuxarı sərlövhələr(başlıq) əlavə etmək üçün hansı əmr seçilməlidir?



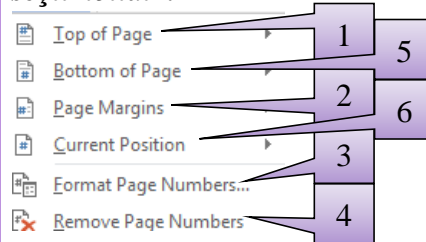
- A)1
B)2
C)3
D)4
E)5

14.Sənədə aşağı sərlövhələr(başlıq) əlavə etmək üçün hansı əmr seçilməlidir?



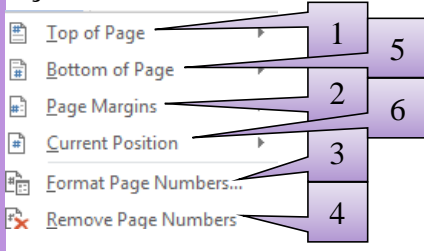
- A)1
B)2
C)3
D)4
E)5

15.Yalnız cari səhifəni nömrələmək üçün hansı əmr seçilməlidir?



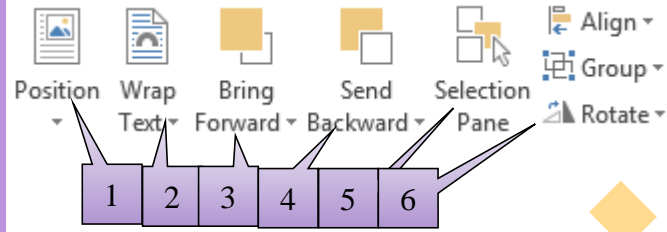
- A)6
B)2
C)3
D)4
E)5

16.Səhifəni nömrələyən zaman nömrələmənin 5-dən başlanmasını təmin edən əmri hansı əmrin daxilindən seçilməlidir?



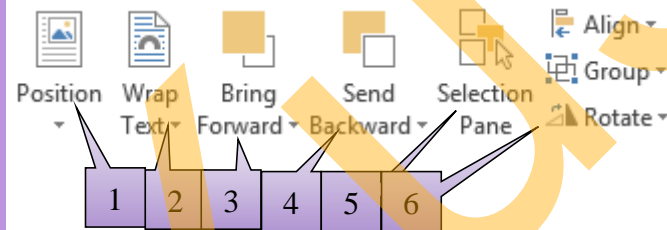
- A)6
B)2
C)3
D)4
E)5

17.Hər hansı bir obyektin mövqeyini(yerini) dəyişmək üçün hansı əmr seçilməlidir?



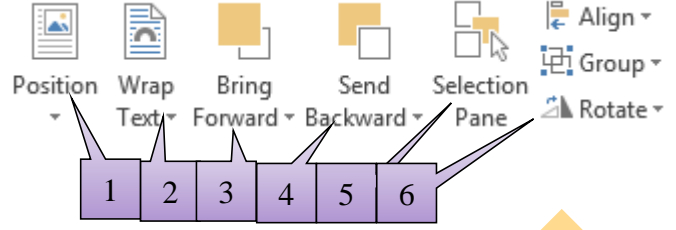
- A)1
B)2
C)3
D)4
E)5

18.Səhifədə olan bütün obyektləri gizlətmək üçün hansı əmr seçilməlidir?



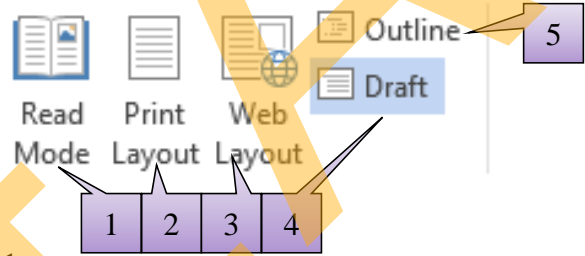
- A)1
B)2
C)3
D)4
E)5

19.Səhifədə olan obyektləri fırlatmaq üçün hansı əmr seçilməlidir?



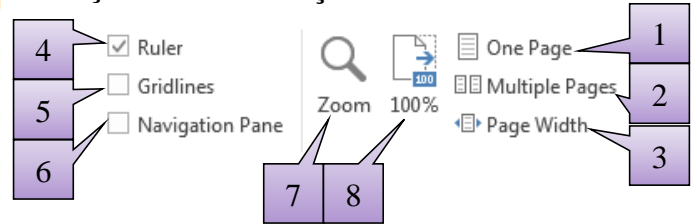
- A)6
B)2
C)3
D)1
E)5

20.Sənədin görünüş rejimlərindən hansı susmaya görə olan görünüş rejimidir?



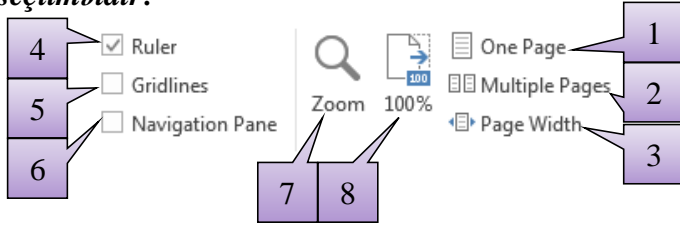
- A)1
B)2
C)3
D)4
E)5

21.Səhifədə xətkəşin görünüb-görünməməsini təmin etmək üçün hansı əmr seçilməlidir?



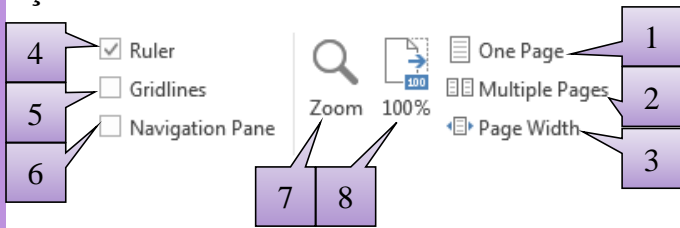
- A)1
B)2
C)3
D)4
E)5

22.Səhifəyə tor xətləri əlavə etmək üçün hansı əmr seçilməlidir?



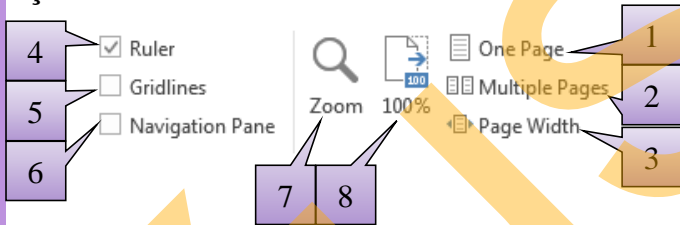
- A)1
B)2
C)3
D)4
E)5

23.Səhifənin ölçüsünü 500% etmək üçün hansı əmr seçilməlidir?



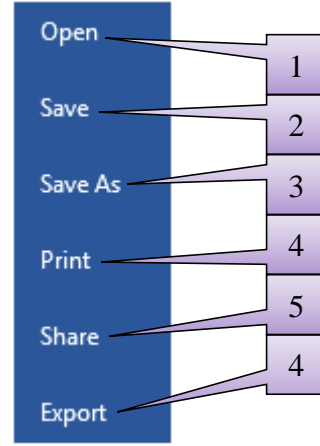
- A)1
B)2
C)3
D)7
E)8

24.Səhifənin ölçüsünü 75% etmək üçün hansı əmr seçilməlidir?



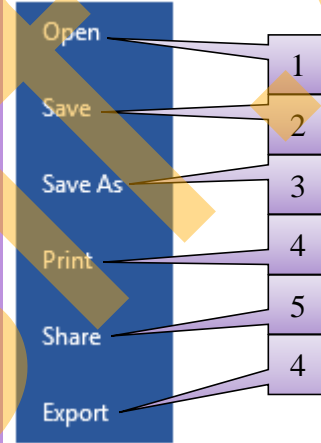
- A)1
B)2
C)3
D)7
E)8

25.Sənədi çap etmək üçün hansı əmr seçilməlidir?



- A)1
B)2
C)3
D)4
E)5

26.Kompüterin yaddaşında olan sənədi redaktə etmək üçün hansı əmr vasitəsi ilə açmaq olar?



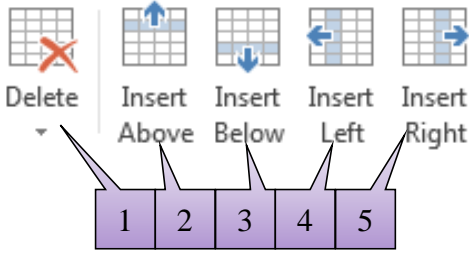
- A)1
B)2
C)3
D)4
E)5

27.Sənədə əlavə edilmiş cədvəlin yalnız bir sətir və sütun xəttini silmək üçün hansı əmrdən istifadə olunur?



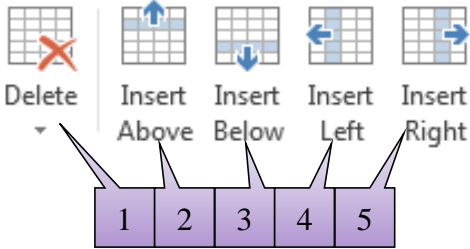
- A)1
B)2
C)3
D)4
E)5

28. Cədvəlin içində kursurun dayandığı mövqenin sol tərəfinə sütun əlavə etmək üçün hansı əmr seçilməlidir?



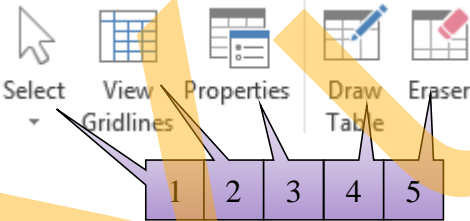
- A)5
- B)4
- C)3
- D)2
- E)1

29. Cədvəlin hər hansı bir sətirini silmək üçün hansı əmr seçilməlidir?



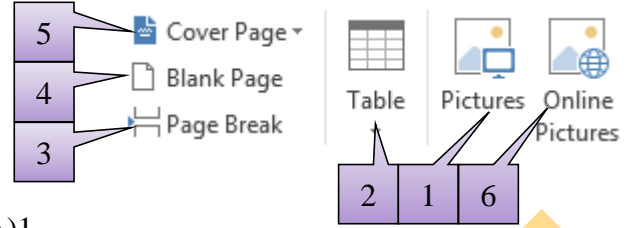
- A)5
- B)4
- C)3
- D)2
- E)1

30. Cədvəli səhifənin mərkəzində yerləşdirmək üçün hansı əmr seçilməlidir?



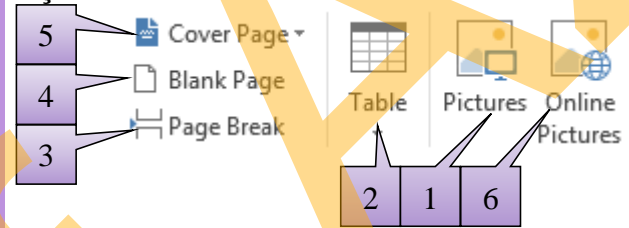
- A)1
- B)2
- C)3
- D)4
- E)5

31. Sənədə boş səhifə əlavə etmək üçün hansı əmr seçilməlidir?



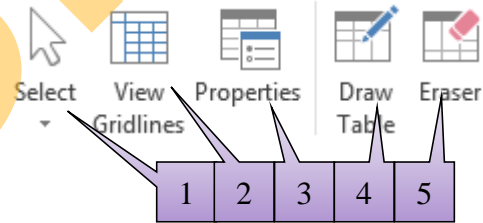
- A)1
- B)2
- C)3
- D)4
- E)5

32. Sənədə kitab üzlükləri əlavə etmək üçün hansı əmr seçilməlidir?



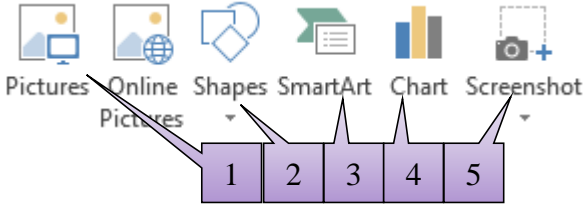
- A)1
- B)2
- C)3
- D)4
- E)5

33. Cədvəli yalnız bir sütununu seçmək üçün hansı əmr seçilməlidir?



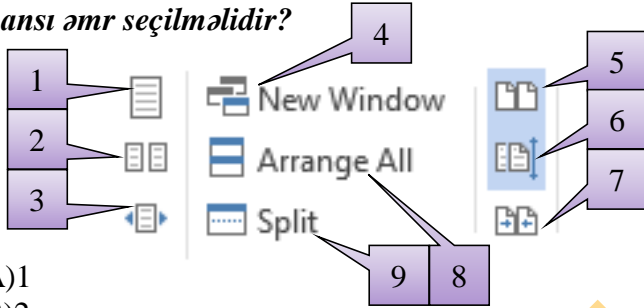
- A)1
- B)2
- C)3
- D)4
- E)5

34. Cari sənədin özündən əvvəl açılmış sənədin şəklini çəkmək üçün hansı əmrdən istifadə olunur?



- A)1
- B)2
- C)3
- D)4
- E)5

35. İki açıq sənədlərin yanbayan görsənməsi üçün hansı əmr seçilməlidir?



- A)1
- B)2
- C)3
- D)4
- E)5
- F)6
- G)7
- H)8
- I)9

Cavablar

1	2	3	4	5	6	7	8	9	10
C	B	C	B	D	E	C	E	C	A
11	12	13	14	15	16	17	18	19	20
B	C	C	D	A	C	A	E	A	B
21	22	23	24	25	26	27	28	29	30
D	E	D	D	E	A	E	B	E	C
31	32	33	34	35					
D	E	A	E	E					