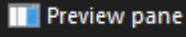
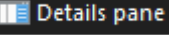


Windows 10

1.Aşağıdakı əmrin qısa yolu hansıdır? Preview pane

- A)Ctrl+P
- B)Alt+P +
- C)Shift+P
- D)Ctrl+Shift+P
- E)Ctrl+Alt+P

2.Aşağıdakı əmrin qısa yolu hansıdır? Details pane

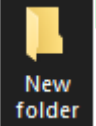
- A)Alt+P
- B)Alt+Shift+P +
- C)Alt+Ctrl+P
- D)Ctrl+Shift+P
- E)Shift+P

3.Aşağıdakı əmrin qısa yolu hansıdır?


- A)F2 +
- B)F3
- C)Alt+F2
- D)Ctrl+F2
- E)F4

4.Aşağıdakı əmrin qısa yolu hansıdır?

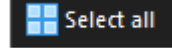
- A)Alt+D
- B)Shift+D
- C)Ctrl+D +
- D)Ctrl+Shift+D
- E)Alt+Shift+D

5.Aşağıdakı əmrin qısa yolu hansıdır?

- A)Ctrl+N
- B)Shift+N
- C)Ctrl+Shift+N +
- D)Alt+N
- E)Ctrl+Alt+N

6.Aşağıdakı əmrin qısa yolu hansıdır?

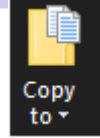
- A)Ctrl+Enter
- B)Ctrl+Alt+Enter
- C)Alt+Shift+Enter
- D)Alt+Enter +
- E)Shift+Enter

7.Aşağıdakı əmrin qısa yolu hansıdır?

- A)Ctrl+B
- B)Ctrl+A +
- C)Alt+A
- D)Shift+A
- E)Ctr+Shift+A

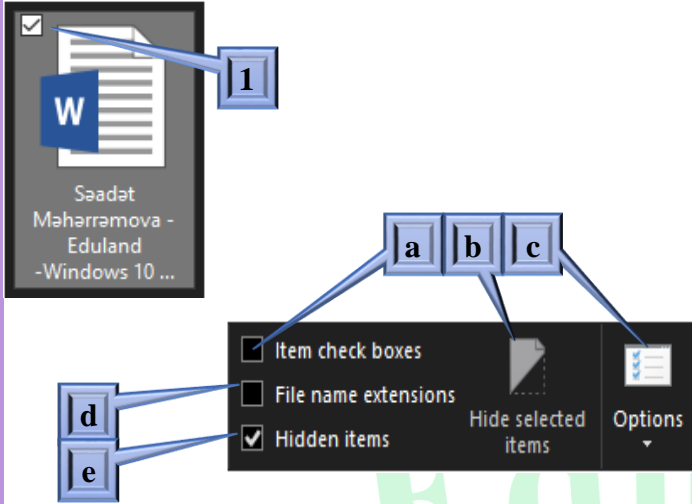
8.Aşağıda qeyd olunan əmrin işi nədir?

- A)obyekti mübadilə buferinin iştirakı ilə yerini dəyişir
- B)obyekti mübadilə buferinin iştirakı ilə nüsxəsini yaradır
- C)obyekti mübadilə buferinin iştirakı olmadan yerini dəyişir +
- D)obyekti mübadilə buferinin iştirakı olmadan sürətini yaradır
- E)obyekti silir

9.Aşağıda qeyd olunan əmrin işi nədir?

- A)obyekti mübadilə buferinin iştirakı ilə yerini dəyişir
- B)obyekti mübadilə buferinin iştirakı ilə nüsxəsini yaradır
- C)obyekti mübadilə buferinin iştirakı olmadan yerini dəyişir
- D)obyekti mübadilə buferinin iştirakı olmadan sürətini yaradır +
- E)obyekti silir

10. Aşağıdakı şəkildə "1" ilə işarələnmiş formalı görünüşünü almaq üçün qeyd olunan əmrlərdən hansı seçilməlidir?



- A) a +
B) b
C) c
D) d
E) e

11. Aşağıdakı görüntünü açmaq üçün qısa yol hansıdır?



- A) Win + Ctrl
B) Win + Alt
C) Win + X +
D) Win + C
E) Win + D

12. Bütün açıq proqramları və faylları bağlayan, şəbəkə əlaqələrinizi bağlayan, sabit disk dayandırma və elektrik enerjisindən istifadəni dayandıran, kompüterinizi söndürən aşağıdakılardan hansıdır?

- A) hibernate
B) shut down +
C) sleep
D) lock
E) exit

13. Microsoft hesabı üçün qeydiyyatdan keçdiyiniz zaman Microsoft tərəfindən təmin edilən pulsuz fayl saxlama və fayl paylaşma xidməti aşağıdakılardan hansıdır?

- A) OneDrive +
B) Google Drive
C) iCloud
D) Dropboxes
E) Microsoft Drive

14. Kompüter ekranının hamısını və ya bir hissəsini çəkməyinizi təmin edən Windows 10-a daxil olan bu proqram aşağıdakılardan hansıdır?

- A) Paint
B) Snipping Tool +
C) Microsoft Edge
D) Cortana
E) 3D photo

15. Sənədlərinizi tapmaqda və düzəltməyinizə kömək etmək üçün yaratdığımız və fayla əlavə etdiyiniz xüsusiyyət (açar sözlər deyilir) aşağıdakılardan hansıdır?

- A) Tug
B) Thumbnail
C) Tag +
D) Snip
E) Snap

16. Proqramın adını göstərən pəncərənin yuxarı hissəsindəki hissə?

- A) Menyü bar
B) Title bar +
C) Detail Pane
D) Taskbar
E) Button

17. Sənəd haqqında məlumat, sənədin son dəyişdirildiyi tarix və hər hansı xüsusiyyətləri necə əldə etmək olar?

- A) File list
B) File history
C) File properties +
D) File name
E) File type

18. "Bildirişlərin Mərkəzi"ni açmaq üçün qısa yol hansıdır?

- A) Win + A +
- B) Win + B
- C) Win + C
- D) Win + N
- E) Win + M

19. Bildiriş sahəsində "Gizli iconları göstər" əmrinin qısa yolu aşağıdakılardan hansıdır?

- A) Win + A
- B) Win + B +
- C) Win + C
- D) Win + N
- E) Win + H

20. İş masasında göstərilən bütün pəncərələri taskbara yığmaq üçün qısa yol hansıdır?

- A) Win + M
- B) Win + N
- C) Win + D +
- D) Win + C
- E) Win + Alt + D

21. Əməliyyat sisteminin demək olar ki, hər hansı bir hissəsinə tez keçə biləcək "Run" pəncərəsini çağırmaq üçün qısa yol hansıdır?

- A) Win + M
- B) Win + R +
- C) Win + P
- D) Win + B
- E) Win + C

22. Axtarış sətirini aktiv etmək üçün qısa yol hansıdır?

- A) Win + F
- B) Win + G
- C) Win + D
- D) Win + S +
- E) Win + M

23. Tapşırıq görünüşü rejiminə keçid üçün qısa yol hansıdır?

- A) Win + Spacebar
- B) Win + D
- C) Win + Tab +
- D) Win + Delete
- E) Win + V

24. File Explorerin açılması üçün qısa yol hansıdır?

- A) Win + W
- B) Win + E +
- C) Win + M
- D) Win + R
- E) Win + N

25. Aktiv pəncərəni tam ekrana genişləndirmək və yenidən basıldıqında əvvəlki ölçüyə minimuma endirmək üçün qısa yol hansıdır?

- A) F6
- B) F7
- C) F11 +
- D) F5
- E) F8

26. Yeni virtual iş masası yaratmaq üçün qısa yol hansıdır?

- A) Ctrl + D
- B) Alt + D
- C) Ctrl + Alt + D
- D) Win + Ctrl + D +
- E) Win + Alt + D

27. "Task meneger" əmrini aktiv etmək üçün qısa yol hansıdır?

- A) Ctr + Alt + Delete +
- B) Ctrl + Shift + Delete
- C) Alt + Delete
- D) Ctrl + Delete
- E) Shift + Delete

28. Task meneger" əmrini aktiv etmək üçün qısa yol hansıdır?

- A) Ctrl + Alt + Esc
- B) Ctrl + Shift + Esc +
- C) Ctrl + Enter
- D) Alt + Enter
- E) Shift + Enter

29. Aktiv virtual iş masasının məcburi bağlanması üçün qısa yol hansıdır?

- A) Alt + F4
- B) Ctrl + F4
- C) Win + Alt + F4
- D) Win + Ctr + F4 +
- E) F4

30. Obyekti "səbətə" yerləşdirmə ilə silinmək üçün qısa yol hansıdır?

- A) Shift + D
- B) Ctrl + Shift + D
- C) Ctrl + D +
- D) Shift + Alt + D
- E) Alt + D

31. Seçilmiş element üçün kontekst menyusunu açmaq üçün qısa yol hansıdır?

- A) F10
B) Shift+F6
C) Shift+F10 +
D) Ctrl+F10
E) Ctrl+Shift+F10

32. Minimizlənmiş pəncərələri maksimum dərəcədə artıran qısa yol düymələri hansıdır?

- A) Win+M
B) Win+Ctrl+M
C) Win+Shift+M +
D) Win+Alt+M
E) Shift+M

33. Aşağıda qeyd olunmuş icon əmrinin adı nədir?



- A) Taskbar
B) Task View +
C) View
D) Detail
E) View

34. Uyğunluğu müəyyən edin:

1. Clipboard	a.
2. Organize	b.
3. New	c.
4. Open	d.

- A) 1-a, 2-b, 3-c, 4-d
B) 1-d, 2-c, 3-b, 4-a
C) 1-d, 2-c, 3-a, 4-b +
D) 1-a, 2-d, 3-b, 4-c
E) 1-b, 2-a, 3-d, 4-c

35. Uyğunluğu müəyyən edin:

1. Panes	a.
2. Layout	b.
3. Current view	c.
4. Show/Hide	d.

- A) 1-d, 2-c, 3-a, 4-b +
B) 1-a, 2-b, 3-c, 4-d
C) 1-d, 2-c, 3-b, 4-a
D) 1-b, 2-a, 3-c, 4-d
E) 1-c, 2-d, 3-a, 4-b

36. Uyğunluğu müəyyən edin:

1. File	a.
2. Home	b.
3. Share	c.
4. View	d.

- A) 1-a, 2-b, 3-c, 4-d
B) 1-d, 2-a, 3-b, 4-c
C) 1-b, 2-a, 3-c, 4-d
D) 1-a, 2-d, 3-d, 4-b
E) 1-b, 2-d, 3-a, 4-c +

37. Uyğunluğu müəyyən edin:

1. File	a.
2. Home	b.
3. Share	c.
4. View	d.

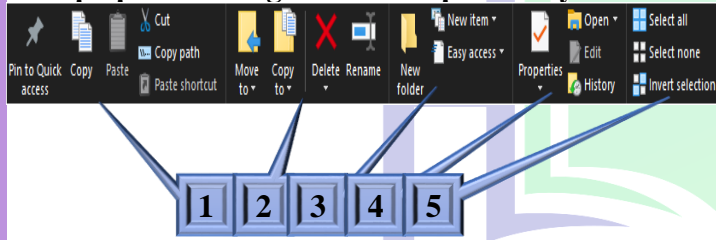
- A) 1-b, 2-d, 3-a, 4-c
B) 1-a, 2-c, 3-d, 4-b
C) 1-b, 2-c, 3-a, 4-d +
D) 1-a, 2-b, 3-c, 4-d
E) 1-d, 2-c, 3-b, 4-a

38.Uyğunluğu müəyyən edin:

1.File	a.
2.Home	b.
3.Share	c.
4.View	d.

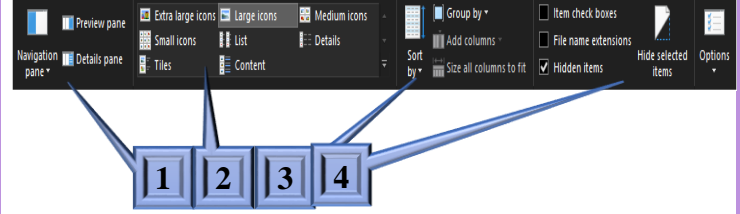
- A)1-a,2-b,3-c,4-d
 B)1-d,2-a,3-c,4-b
 C)1-d,2-a,3-b,4-c
 D)1-b,2-d,3-c,4-a +
 E)1-b,2-a,3-d,4-c

39.Şəkilə Home menyusunun əmrləri verilmişdir, lent qruplarını düzgün ardıcılıqla sıralayın:



- a.Select
 b.New
 c.Open
 d.Clipboard
 e.Organize
 A)1-d,2-e,3-b,4-c,5-a +
 B)1-a,2-b,3-c,4-d,5-e
 C)1-e,2-a,3-d,4-c,5-b
 D)1-b,2-d,3-a,4-e,5-c
 E)1-c,2-d,3-b,4-a,5-e

40.Şəkilə View menyusunun əmrləri verilmişdir, lent qruplarını düzgün ardıcılıqla sıralayın:



- a.Panes
 b.Current view
 c.Show/Hide
 d.Layout
 A)1-c,2-a,3-b,4-d
 B)1-d,2-a,3-b,4-c
 C)1-c,2-a,3-b,4-d
 D)1-a,2-d,3-b,4-c +
 E)1-b,2-a,3-d,4-b